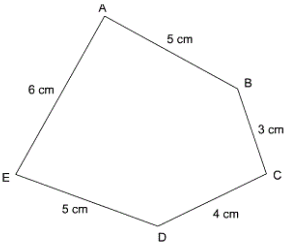
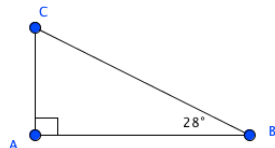




	Calcul	Réponse	Jury
1	$8 \times 4 =$		
2	$271 + 32 + 8 + 59 =$		
3	Donner le chiffre des dizaines de 234,56		
4	$12 - 2 \times 5 =$		
5	$(25 - 9) : 4 =$		
6	Le tiers du double de 6 est		
7	$(15) - (-4) =$		
8	 <p>Le périmètre est</p> <p>....cm</p>		
9	Déterminer la (ou les) valeur(s) de x qui rend(ent) vraie l'égalité : $6x - 1 = 4x + 7$	<input type="checkbox"/> 1 <input type="checkbox"/> 2 <input type="checkbox"/> 3 <input type="checkbox"/> 4	
10	$\frac{5}{8}$ de 48 représentent		

	Calcul	Réponse	Jury
11	$\frac{2}{3} - \frac{1}{4} =$		
12	L'écriture irréductible de la fraction $\frac{21}{36}$ est	$\frac{\dots}{\dots}$	
13	675 est divisible par (cocher la ou les bonnes réponses)	<input type="checkbox"/> 9 <input type="checkbox"/> 5 <input type="checkbox"/> 3 <input type="checkbox"/> 2	
14	$10,45 + 2 + 3,55 =$		
15	$1,46 : 0,001 =$		
16	10 kg de tomates coûtent 15 \$. Combien coûtent 8 kg de poires ? \$	
17	 <p>La mesure de \hat{C} est</p> <p>.... °</p>		
18	AC = 9 cm, BC = 5 cm. On souhaite construire un triangle ABC. Parmi les nombres suivants, cocher la ou les valeurs possibles pour la longueur AB.	<input type="checkbox"/> 1 cm <input type="checkbox"/> 3 cm <input type="checkbox"/> 5 cm <input type="checkbox"/> 6 cm	
19	De 19 h 38 à 22 h 07 il s'écoule min	
20	 <p>L'abscisse de A est 2 Vrai ou Faux ?</p>		

	Calcul	Réponse	Jury
21	$831,75 + 1506,1 + 89,564$ est le plus proche de	<input type="checkbox"/> 1900 <input type="checkbox"/> 2500 <input type="checkbox"/> 2600	
22	Je cours 15 km en 30 minutes, quelle est ma vitesse en km/h ? km/h	
23	Voici les notes obtenues par un élève : 19, 10, 8, 11, 12 Quelle est sa moyenne ?		
24	Un carré a pour aire 25 cm^2 . Quel est son périmètre ? cm	
25	La droite passant perpendiculairement par le milieu d'un segment est la	<input type="checkbox"/> médiane <input type="checkbox"/> médiatrice <input type="checkbox"/> hauteur <input type="checkbox"/> bissectrice	
26	$\frac{(12 - 4 \times 8 + 2) \times (25 - 5^2)}{7 + 5 \times 2^2} =$		
27	<p>Ex1: 5,75/6</p> <p>Ex2: 2,50/4</p> <p>Ex3: 3,75/4</p> <p>Ex4: 5/6</p> <p>Quelle sera la note sur 20 points de cet élève ?</p>		
28	 <p>Combien d'heures sont concernés du lundi au dimanche hors vacances scolaires?</p>		

LCAN 2016 : Amérique du Nord, épreuve définitive		
<p>❶ Remplir les trois cases ci-dessous, seule cette demi-page doit être visible.</p>		
♦ Nom :	♦ Prénom :	♦ Cinquième
<p>❷ Bien lire ces consignes :</p> <ul style="list-style-type: none"> ♦ Calculatrice et gomme sont interdites. ♦ Aucun calcul posé ne doit apparaître sur ta feuille, raturer un résultat pour proposer une autre réponse est cependant autorisé. 		
<p>❸ Attendre le signal de départ. Bons calculs et bonne chance.</p>		



A vos maths... Prêts? Calculez!

