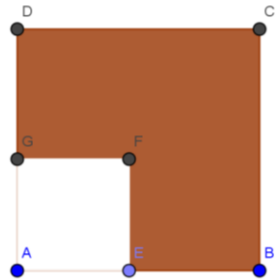
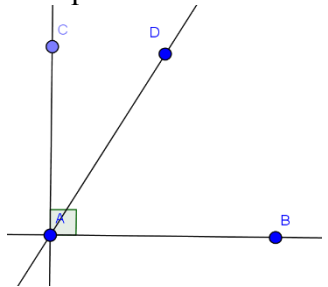
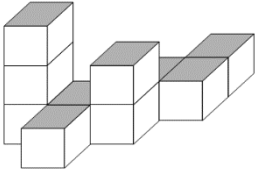




	Énoncé	Réponse	Jury
1	$73 + 17 =$		
2	$32 + \dots = 71$		
3	$7 \times 12 =$		
4	$560 = 8 \times \dots$		
5	Moitié de 71		
6	Triple de 35		
7	$75 \times 4 =$		
8	$8,5 \times 100$		
9	$13,25 \times 0,1 =$		
10	$4,2 + 3,9 =$		
11	3 dizaines + 5 dixièmes =		
12	$5,7 - 1,9 =$		
13	$5 \times 40 \times 6 \times 2 =$		
14	Le double du tiers de 150 est égal à :		
15	2h33minutes est égale àminutes	

	Énoncé	Réponse	Jury
16	Calculer $\frac{2}{7}$ de 42		
17	Le périmètre d'un carré est de 40 m. Quelle est la mesure de son aire? m ²	
18	L'arrondi au centième près de 56,7751 est :		
19	Un ordre de grandeur de 147×98 est :	<input type="radio"/> 1 500 <input type="radio"/> 15 000 <input type="radio"/> 250	
20	Avec combien de zéros s'écrit le nombre un million de mille million ? zéro(s)	
21	<p>ABCD et AEFG sont 2 carrés de côtés 5 cm et 2,3cm. Quel est le périmètre de la figure foncée ?</p>  cm	
22	<p>Calcule la mesure de \widehat{BAD} sachant que $\widehat{CAD} = 37^\circ$</p> °	

	Énoncé	Réponse	Jury
23	3 h 36 min - 1h57 min =h.... min	
24	4 cahiers coutent 5€. Combien coutent 7 cahiers ? €.	
25	Compte le nombre de cubes de la figure : 		
26	J'avance de 6hm puis recule de 1600dm. À quelle distance de mon point de départ suis-je ? m	
27	J'ai acheté un paquet de gâteau. Combien coûte 1 de ces gâteaux ? \$	
28	Le 30 juin, combien de jours me restera t'il pour manger mon beurre de cacahuète avant qu'il ne soit périmé ? 		

LCAN 2016 : Amérique du Nord, épreuve d'entraînement 6ème

1 Remplir les trois cases ci-dessous, seule cette demi-page doit être visible.

◆ Nom :

◆ Prénom :

◆ Classe :

2 Bien lire ces consignes :

◆ Calculatrice et gomme sont interdites.

◆ Aucun calcul posé ne doit apparaître sur ta feuille, raturer un résultat pour proposer une autre réponse est cependant autorisé.

3 Attendre le signal de départ. Bons calculs et bonne chance.



A vos maths... Prêts? Calculez!